

**Проверочная работа
по МАТЕМАТИКЕ**

4 КЛАСС

Вариант 30

Инструкция по выполнению работы

На выполнение работы по математике даётся 45 минут. Работа содержит 11 заданий.

В заданиях, после которых есть поле со словом «Ответ», запиши ответ в указанном месте.

В заданиях 5 (пункт 2) и 10 нужно сделать чертёж или рисунок.

В заданиях, после которых есть поле со словами «Решение» и «Ответ», запиши решение и ответ в указанном месте.

Если ты хочешь изменить ответ, то зачеркни его и запиши рядом новый.

При выполнении работы нельзя пользоваться учебниками, рабочими тетрадями, справочниками, калькулятором.

При необходимости можно пользоваться черновиком. Записи в черновике проверяться и оцениваться не будут.

Советуем выполнять задания в том порядке, в котором они даны. Для экономии времени пропускай задание, которое не удаётся выполнить сразу, и переходи к следующему. Постарайся выполнить как можно больше заданий.

Желаем успеха!

8 Вася ехал на велосипеде и проезжал каждую минуту 500 м. Так он ехал 20 мин. Затем после случайного прокола колеса оставшийся путь он шёл пешком, проходя 50 м за минуту. Сколько времени он шёл с велосипедом, если общий путь составил 12 км?

Запиши решение и ответ.

Решение:	
Ответ:	

9 Андрей и Владимир подтягивались на турнике: сначала Андрей подтянулся один раз, затем Владимир – два раза, потом Андрей – три раза и так далее. В сумме ребята подтянулись 21 раз.

1) Кто подтягивался последним?

Ответ:	
--------	--

2) Сколько раз подтянулся Андрей?

Ответ:	
--------	--

- 10 Из трёх кубиков сложили постройку. Если посмотреть на неё в направлении по стрелке, то будет видна фигура, состоящая из трёх квадратов (рис. 1). Из 27 таких же кубиков сложили куб (рис. 2). Затем с этого куба сняли несколько кубиков (рис. 3). Какая фигура будет видна, если смотреть на получившуюся постройку в направлении по стрелке?

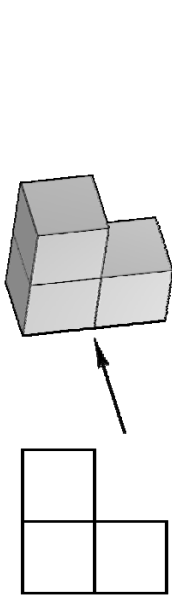


Рис. 1

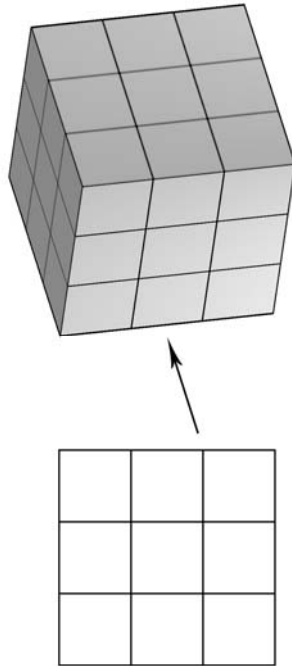


Рис. 2

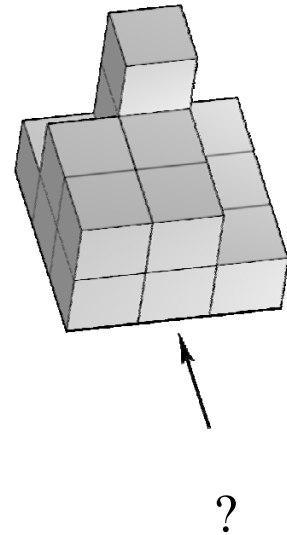
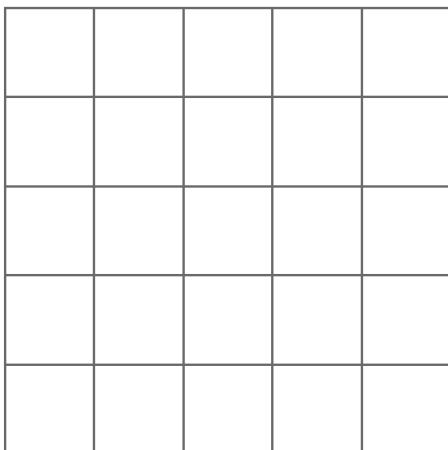


Рис. 3

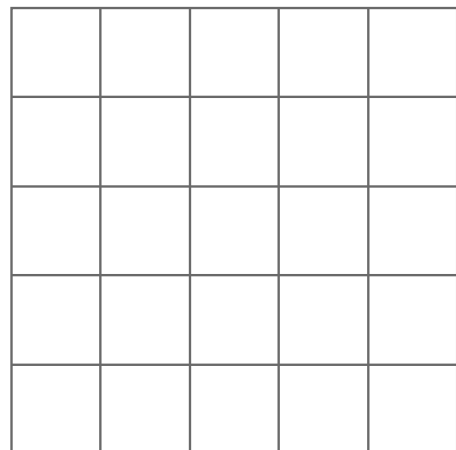
Изобрази эту фигуру на клетчатом поле. Один кубик следует изображать одной клеткой.

Одно из полей можно использовать как черновик.

Черновик



Ответ



- 11) Некоторое число умножили на 5. Результат получился на 20 больше исходного числа. Найди исходное число.

Запиши решение и ответ.

Решение:	
<div style="border: 1px dashed black; width: 40px; height: 30px; display: inline-block;"></div> Ответ:	